


제 4 교시

사회탐구 영역(세계사)

성명 수험 번호

1. (가) 문명에 대한 설명으로 옳은 것을 <보기>에서 고른 것은?



미라, 한국에 오다

○○박물관 특별전에 여러분을 초대합니다. 미라와 관, 파라오의 화려한 부장품 등으로 구성된 이번 특별전을 통해 여러분은 나일 강이 선사한 고대 (가) 문명의 세계와 한층 더 가까워질 것입니다.

- 기간 : 2017.△△.△△. ~ 2017.△△.△△.
- 장소 : 기획 전시실

— <보기> —

- ㄱ. 피라미드를 건축하였다.
- ㄴ. 사자의 서를 제작하였다.
- ㄷ. 길가메시 서사시를 남겼다.
- ㄹ. 도리스 인의 침입으로 멸망하였다.


- ① ㄱ, ㄴ ② ㄱ, ㄷ ③ ㄴ, ㄷ ④ ㄴ, ㄹ ⑤ ㄷ, ㄹ

2. (가) 인물에 대한 설명으로 옳은 것은? [3점]

우표와 함께하는 시간 여행

■ 라틴 아메리카의 독립운동가

이 우표는 (가) 의 서거 100주년을 기념하여 아르헨티나에서 발행한 것이다. (가) 은/는 라틴 아메리카에서 독립 전쟁을 벌여 아르헨티나와 페루의 독립에 크게 기여하였다. 특히 페루에서는 그를 '페루의 보호자'라 부르며 영웅으로 추앙하고 있다.



- ① 아이티의 독립운동을 주도하였다.
- ② 와하비(와하브) 운동을 전개하였다.
- ③ 영국에 대항하여 소금 행진을 벌였다.
- ④ 에스파냐로부터 칠레의 독립을 이끌어 냈다.
- ⑤ 이슬람 동맹에 가입하여 네덜란드에 맞섰다.

3. 밑줄 친 '제도'가 시행된 시기에 볼 수 있는 모습으로 적절한 것은? [3점]

위(魏)나라는 가문의 지위 고하를 따지지 않고 재능과 덕망에 따라 인재를 여러 등급으로 나누어 선발하는 제도를 실시하였다. 위(魏)나라 이후 진(晉)나라를 비롯한 여러 나라도 이를 시행하였는데, 주(州)와 군(郡)에서 인물을 평가하여 등급을 매기는 관리가 점차 가문을 중시하게 되었다.

- ① 동경몽화록을 읽는 상인
- ② 여사잠도를 그리는 귀족
- ③ 오경정의를 편찬하는 관인
- ④ 천공개물을 저술하는 지식인
- ⑤ 청명상하도를 감상하는 황제

4. (가), (나) 인물에 대한 설명으로 옳은 것은?

- (가) 은/는 전국을 36개 군으로 나누고 관리를 파견하였다. 또한 수도와 변방을 연결하는 도로를 건설하였으며 화폐, 도량형, 문자를 통일하였다.
- (나) 은/는 20여 개의 속주에 총독을 파견하여 지방 행정과 질서 유지를 담당하게 하였다. 그리고 '왕의 눈', '왕의 귀'라 불리는 감찰관을 파견하여 총독을 감시하였다.

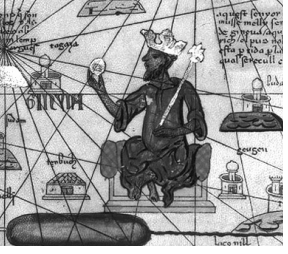
- ① (가) - 분서갱유를 일으켰다.
- ② (가) - 균수법을 시행하였다.
- ③ (가) - 장건을 서역에 파견하였다.
- ④ (나) - 산치 대탑을 건설하였다.
- ⑤ (나) - 함무라비 법전을 편찬하였다.

5. 다음 제도를 마련한 인물에 대한 설명으로 옳은 것은? [3점]

도편 투표 실시 여부를 결정하기 위해 예비 투표를 한다. 실시하기로 가결되면, 아고라 주변에 널판을 두르고 열 개의 입구를 만든다. 그 입구를 통해서 사람들은 부족별로 들어와서 글을 새긴 면을 아래로 하여 자신의 도편을 내려놓는다. 고위 관리 9명과 500인 평의회가 이러한 절차를 주관한다.

- ① 부족제를 개편하였다.
- ② 삼두 정치를 주도하였다.
- ③ 악티움 해전에서 승리하였다.
- ④ 펠로폰네소스 동맹을 결성하였다.
- ⑤ 특수직을 제외한 모든 관직에 추천제를 도입하였다.

6. 밑줄 친 '이 왕국'에 대한 설명으로 옳은 것은?



이 왕국의 만사 무사는 대규모의 수행원을 거느리고, 낙타에 많은 양의 금괴를 싣고 메카로 성지 순례를 다녀왔다. 그는 순례 도중 카이로에서 가난한 사람들에게 황금을 나눠 주었는데, 그 양이 너무 많아 카이로의 금값이 떨어졌다.

만사 무사

- ① 쿠시 왕국을 정복하였다.
- ② 줄루 왕국을 식민지로 삼았다.
- ③ 키푸(퀴푸)라는 매듭 문자를 사용하였다.
- ④ 아도와 전투에서 이탈리아군을 물리쳤다.
- ⑤ 팀북투(통북투)가 무역의 중심지로 변형하였다.

7. 밑줄 친 '외적'에 대한 탐구 활동으로 가장 적절한 것은? [3점]



내 각대 학사님! 외적의 침입으로 재정 고갈이 심하니 걱정입니다.

게다가 세금의 종류도 너무 많고 복잡하여 징수하는 데 어려움이 많습니다.

걱정 마시오. 토지 측량도 끝났으니, 잡다한 세금을 지세와 정세로 정리하여 은으로 걷는 방식을 전국적으로 확대 실시하기로 했소.

- ① 5호의 화북 점령 과정을 알아본다.
- ② 탕구트의 서하 건국 과정을 찾아본다.
- ③ 왜구의 침략에 따른 피해를 조사한다.
- ④ 거란의 연운 16주 획득 배경을 분석한다.
- ⑤ 여진의 카이펑 함락(정강의 변) 과정을 살펴본다.


8. 다음 선언이 이루어진 시기를 연표에서 옳게 고른 것은? [3점]

나 하인리히 5세는 신과 거룩한 로마 교회, 그리고 주군이신 교황 칼릭스투스에 대한 사랑으로 반지와 지팡이를 통한 모든 서임권을 신에게, 신의 거룩한 사도들인 베드로와 바울로에게, 또한 거룩한 로마 교회에 바친다. 짐은 제국 내 모든 교회가 교회법에 따라 자유롭게 성직자를 선출하고 서임하는 데 동의한다.

	(가)	(나)	(다)	(라)	(마)
교회의 동·서 분열	카노사의 굴욕	클레르몽 공의회	아비뇽 유수	콘스탄츠 공의회	남트 칙령

- ① (가) ② (나) ③ (다) ④ (라) ⑤ (마)


9. (가) 나라에 대한 설명으로 옳은 것은? [3점]



메흐메드 파샤 소콜로비치 다리

• 등재 연도 : 2007년

• 건축 연도 : 1577년



보스니아 출신의 소콜로비치는 (가)에 의해 강제 징집되어 드리나 강을 건널 때 다리가 없어 고생하였다. 예니체리가 되어 출세를 거듭한 후 1565년 대재상이 된 그는, 드리나 강을 건널 당시의 어려움을 기억하고 다리를 건설하였다. 이 다리는 1961년 노벨 문학상을 수상한 이보 안드리치의 소설 『드리나 강의 다리』의 주요 소재이다.

- ① 마라타 동맹을 탄압하였다.
- ② 몽골의 공격으로 멸망하였다.
- ③ 이베리아 반도를 정복하였다.
- ④ 탄지마트(은혜 개혁)를 추진하였다.
- ⑤ 바그다드를 새로운 수도로 정하였다.

10. 밑줄 친 '조약'에 대한 설명으로 옳은 것은?

열강의 이권 침탈이 심화되자 배외 감정이 고조되었다. 비밀 결사를 조직한 사람들이 산둥 일대에서 큰 세력을 이루어 크리스티교도를 습격하고 외국 공사관을 공격하였다. 이들을 진압한다는 명목으로 출병한 영국, 독일을 비롯한 연합군이 베이징을 점령하고 약탈하였다. 이에 청 정부는 이홍장을 전권대신으로 임명하고, 연합국과 협상하여 전쟁 배상금 지불 등을 규정한 조약을 체결하였다.

- ① 홍콩을 할양하였다.
- ② 텐진을 개항하였다.
- ③ 변법자강 운동의 계기가 되었다.
- ④ 중국 동맹회 결성 이후에 체결되었다.
- ⑤ 외국 군대의 베이징 주둔을 허용하였다.


11. (가)에 들어갈 내용으로 가장 적절한 것은? [3점]

전 보 - 인도 전신국 -			
날 짜	○○○○년 ○○월 ○○일	시 간	□□시 □□분
보내는 사람	△△ 신문 기자 ◇◇◇	받는 사람	△△ 신문 편집국
금일 벵골 각지의 대표와 수많은 학생들이 콜카타의 공회당에 모여 채택한 결의문을 전송함.			
1. 벵골 분할령은 취소되어야 한다. 2. <input type="text"/> (가) 3. 벵골 분할령이 취소될 때까지 투쟁은 계속될 것이다.			

- ① 롤릿법의 시행을 촉구한다.
- ② 인도 독립 동맹의 결성을 지지한다.
- ③ 세포이 항쟁에 적극적으로 동참한다.
- ④ 영국 상품을 불매하는 운동을 벌인다.
- ⑤ 브라흐마 사마지 운동을 전국적으로 확산시킨다.

12. (가) 나라가 만든 건축물로 옳은 것은?

<p>역사 인물 사전</p> <p>주달관(약 1266~1346)</p> <p>주달관은 동남아시아 사정에 밝다는 이유로 원 황제의 명을 받고 <input type="text"/> (가) 을/를 방문하여 1년 남짓 체류하였다. 이때 얻은 크메르인의 왕궁, 종교, 풍습 등에 대한 건문을 바탕으로 책을 저술하였다. 그의 책은 매우 중요한 사료로 평가받고 있다.</p>	<p>아시아 편</p> <p>■ (가)의 최대 영역 ● (가)의 수도 → 주달관의 이동 경로</p>
---	---



13. 밑줄 친 '인물'에 대한 설명으로 옳은 것은?

제○○호	유럽사 신문	○○○○년 ○○월 ○○일
과학·수학의 인기와 새로운 풍속		
<p>최근 파리에선 결혼 적령기에 접어든 두 여성의 이야기가 화제이다. 이들은 과학과 수학에 매료되었다. 한 명은 배우자의 조건으로 렌즈 제작 기술의 습득을 요구하였고, 다른 한 명은 적분 문제를 풀지 못했다는 이유로 신랑 후보를 차갑게 외면했다고 한다.</p> <p>이제 많은 사람들이 과학과 수학에 관심을 갖는 시대가 되었다. 게다가 이웃 섬나라의 어떤 인물이 모든 물체의 운동을 수학적 법칙으로 설명한 『프린키피아(자연 철학의 수학적 원리)』라는 책을 써서 큰 인기를 끌고 있으니, 이러한 현상이 더욱 확산될 것으로 예상된다.</p>		

- ① 방법시설을 저술하였다.
- ② 만유인력 법칙을 주장하였다.
- ③ 중의 기원을 통해 진화론을 발전시켰다.
- ④ 신 기관(노름 오르가눔)에서 귀납법을 설명하였다.
- ⑤ 화성이 태양을 중심으로 타원 운동 하는 것을 발견하였다.

14. (가)에 들어갈 내용으로 옳은 것은? [3점]

	<p>헨리 8세의 딸인 이 인물은 통일법(령)을 반포하여 국내 정치를 안정시켰을 뿐만 아니라 영국의 국력을 크게 강화하였다. 그녀는 아메리카 식민지를 개척하였고, <input type="text"/> (가) 또한 동인도 회사를 설립하여 해외 시장 개척에 나섰다.</p>
--	--

- ① 무적함대를 격파하였다.
- ② 스코틀랜드를 합병하였다.
- ③ 백년 전쟁을 승리로 이끌었다.
- ④ 인도차이나 연방을 수립하였다.
- ⑤ 베스트팔렌 조약을 체결하였다.

15. 다음 조약에 대한 설명으로 옳은 것은?

<p>제 45 조 독일은 프랑스 북부의 탄광 지대를 파괴한 보상으로 자르 유역에 있는 탄광 지대의 독점 채굴권을 포함한, 완전하고도 절대적인 소유권을 프랑스에 넘겨준다.</p> <p>제119조 독일은 해외 식민지에 관한 모든 권리와 요구를 연합국에게 넘겨준다.</p> <p>제173조 독일에서 의무병 제도는 폐지된다. 독일 군대는 지원병 제도로만 조직해야 한다.</p>	
--	--

- ① 대서양 헌장의 영향을 받았다.
- ② 마셜 계획의 수립을 결정하였다.
- ③ 북독일 연방 성립의 계기가 되었다.
- ④ 베르사유 체제의 성립에 기여하였다.
- ⑤ 켈로그·브리앙 조약 이후에 체결되었다.

16. (가)에 들어갈 내용으로 가장 적절한 것은? [3점]

탐구 활동 계획서

- 주제: 이탈리아 통일 왕국의 성립 과정
- 탐구 활동
 - 1모둠: 이탈리아의 분열 상황을 분석한다.
 - 2모둠: (가)
 - 3모둠: 오스트리아와의 전쟁 과정을 파악한다.
 - 4모둠: 가리발디 의용군의 활약을 조사한다.

- ① 3국 협상의 결성 목적을 알아본다.
- ② 사르데냐 왕국의 역할을 알아본다.
- ③ 총재 정부의 출범 과정을 알아본다.
- ④ 데카브리스트의 봉기에 대해 알아본다.
- ⑤ 파시스트 당의 로마 진군 과정을 알아본다.

17. (가) 국가에 대한 설명으로 옳은 것은?

이곳은 (가)의 땅이므로, 헤레로 죽은 즉시 이곳을 떠나야 한다. 이를 거부한다면 대포를 쏘아서 강제로 쫓아낼 것이다. 헤레로 죽은 무기를 가졌든 안 가졌든, 가축을 가졌든 안 가졌든 모두 처형될 것이다. 여성과 어린아이도 예외를 두지 않을 것이다.

- 트로타 장군 -

- ① 범슬라브주의를 표방하였다.
- ② 플라시 전투에서 승리하였다.
- ③ 인도네시아를 식민지로 삼았다.
- ④ 모로코를 둘러싸고 프랑스와 두 차례 대립하였다.
- ⑤ 아프리카 종단 정책을 추진한 영국과 파쇼다에서 충돌하였다.

18. 밑줄 친 '무역'에 대한 설명으로 옳은 것은?

이 비에 새겨진 갈레온 선은 16세기 초 유럽에서 개발된 대형 범선입니다. 갈레온 선은 마닐라와 멕시코의 아카풀코 사이에서 1565년부터 1815년까지 지속된 태평양 횡단 무역에 사용되었습니다.

MANILA 1988 CENTENNIAL YEAR

- ① 정화의 원정에 의해 시작되었다.
- ② 네덜란드 동인도 회사가 주도하였다.
- ③ 상파뉴 정기시의 발달에 기여하였다.
- ④ 아메리카산 은을 아시아로 유입시켰다.
- ⑤ 인도와 서남아시아 사이의 바닷길 개척을 자극하였다.

19. (가), (나) 국가에 대한 설명으로 옳은 것은?

(가)의 황제이자 이탈리아의 왕, 라인 연방(동맹)의 보호자인 본인은 다음과 같이 선포한다.

1. 모든 함선은 국적을 불문하고 (나)에 해상 조사를 받거나 세금을 지불하는 경우, 그 국적을 더 이상 인정받지 못한다.
...(중략)...
3. 국적과 화물의 내용을 막론하고 (나)와/과 그 식민지의 항구에 입항하거나 출항하는 모든 함선은 (가)에 붙잡힐 경우 전리품이 될 것이다.

○○○○년 ○○월 ○○일
밀라노에서

- ① (가)는 에스파냐를 위성국으로 삼았다.
- ② (가)는 러시아와 함께 4국 동맹을 주도하였다.
- ③ (나)는 트라팔가르 해전에서 패배하였다.
- ④ (나)는 미국의 독립을 지원하기 위해 군대를 파견하였다.
- ⑤ (나)는 오스트리아를 물리치고 신성 로마 제국을 해체시켰다.

20. 밑줄 친 '정책'에 대한 설명으로 옳은 것은? [3점]

이 그림은 중화 인민 공화국이 수립된 지 9년이 되던 그해에 농업과 공업의 생산성을 혁신적으로 높이기 위해서 추진된 정책을 선전하기 위한 것이다. 그림 속의 표어는 '하루는 20년과 같다'는 뜻으로, 서구가 20년 동안 한 일을 하루 만에 성취하자는 의지를 담고 있다.

- ① 연안 도시에 경제특구가 설치되었다.
- ② 학생들이 중심이 된 홍위병이 대규모로 동원되었다.
- ③ 인민 공사를 통한 농업의 사회주의화가 추진되었다.
- ④ 대외 협력을 강화하기 위해 반동 회의 참석이 결정되었다.
- ⑤ 석유 파동으로 인한 경제 위기를 극복하기 위해 시도되었다.

* 확인 사항
○ 답안지의 해당란에 필요한 내용을 정확히 기입(표기)했는지 확인하십시오.